


4. RAZRED



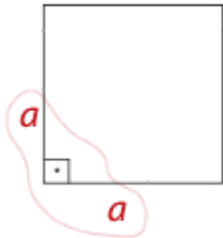
stranica
104

Pribor potreban za rad:

- udžbenik
- radna bilježnica

PRISJETI SE!

Što je kvadrat? Koliko ima stranica? Kakve su njegove stranice? Kako računamo opseg kvadrata?



Površina kvadrata jednaka je umnošku duljine stranice sa samom sobom.

$$P_{\square} = a \cdot a$$

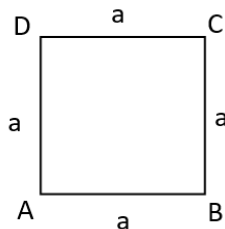
Danas ćeš naučiti računati površinu kvadrata.

Prepiši plan ploče.

Riješi zadatke u udžbeniku na 104. stranici.

PLAN PLOČE

Površina kvadrata



Površina kvadrata jednaka je umnošku duljine stranice sa samom sobom.

$$P = a \cdot a$$

$$a = 3 \text{ dm}$$

$$P = ?$$

$$P = a \cdot a$$

$$P = 3 \cdot 3$$

$$P = 9 \text{ dm}^2$$

DODATNI ZADATAK

Riješi zadatke u radnoj bilježnici na 104. stranici.